

Modèle CCYC : ©DNE

Nom de famille (naissance) :


(Suivi s'il y a lieu, du nom d'usage)

Prénom(s) :

N° candidat :  N° d'inscription :

(Les numéros figurent sur la convocation.)

Né(e) le :  /  /



RÉPUBLIQUE FRANÇAISE

1.1

## ÉPREUVES COMMUNES DE CONTRÔLE CONTINU

**CLASSE :** Première

**E3C :**  E3C1  E3C2  E3C3

**VOIE :**  Générale  Technologique  Toutes voies (LV)

**ENSEIGNEMENT :** physique-chimie

**DURÉE DE L'ÉPREUVE :** 2 h

**CALCULATRICE AUTORISÉE :**  Oui  Non

Ce sujet contient des parties à rendre par le candidat avec sa copie. De ce fait, il ne peut être dupliqué et doit être imprimé pour chaque candidat afin d'assurer ensuite sa bonne numérisation.

**Nombre total de pages :** 9

### PARTIE A

#### Étude d'une structure en béton : de la pose à l'analyse (10 points)


Un coffrage a pour but de réaliser avec du béton des ouvrages aux formes définies. Il s'agit d'une structure provisoire utile pour maintenir le béton en place en attendant sa prise puis son durcissement.

Une fois la structure en béton réalisée, il est important de vérifier si celle-ci ne présente aucun défaut. Des contrôles de la structure sont faits grâce à des outils utilisant des ondes de différentes natures.

#### 1. Pression exercée par le béton sur les fondations

Le béton frais avant le début de son durcissement possède des propriétés communes avec les liquides. Le béton frais exerce une pression sur le coffrage qui l'entoure et sur les fondations. Il est donc important d'estimer cette pression pour s'assurer que la structure est suffisamment résistante.

Le coffrage représenté ci-dessous permet de construire un pilier carré en béton de côté  $L = 30,0$  cm et de hauteur  $h = 4,50$  m ouvert du côté A.




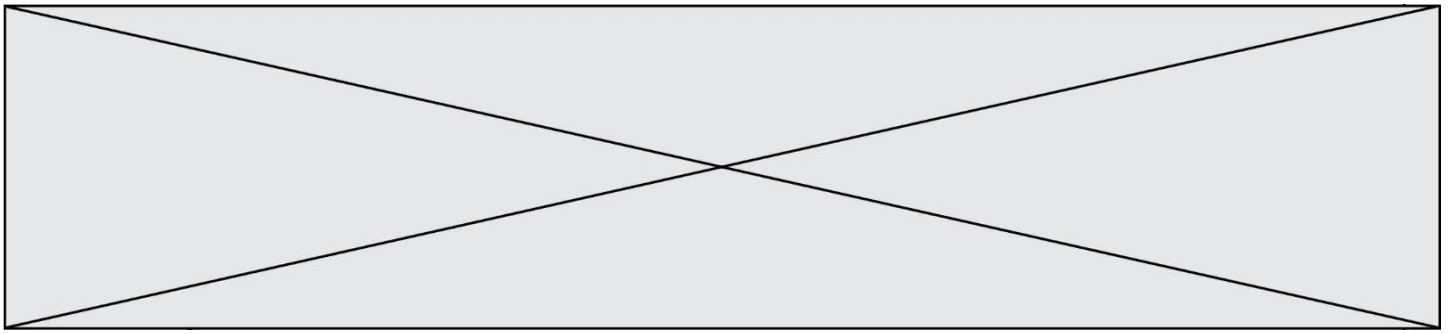


Figure 1. Coffrage vu du dessus  
Source : [www.cofrasud.com](http://www.cofrasud.com)

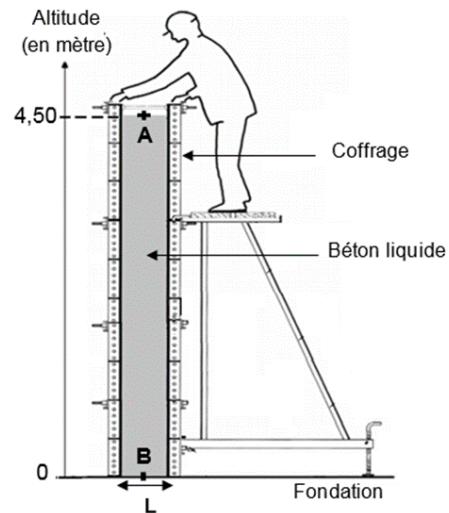


Figure 2. Coffrage vu de côté

Données :

- il existe différents types de coffrage plus ou moins résistants à la pression exercée par le béton liquide.

Gammes Coffrages	Pression relative* maximale autorisée exercée sur les coffrages (en kPa)
Alu et acier	60
Élite métal	100
Cosfort métal	120

\* La pression relative est l'écart entre la pression dans le liquide  $P$  et la pression atmosphérique  $P_{atm}$  :

$$P_{relative} = P - P_{atm}$$


Source : <https://www.coffrages-cosmos.com>

- intensité de la pesanteur  $g = 9,81 \text{ N} \cdot \text{kg}^{-1}$  ;
- masse volumique du béton  $\rho_{béton} = 2,40 \times 10^3 \text{ kg} \cdot \text{m}^{-3}$  ;
- pression atmosphérique  $P_{atm} = 1,00 \text{ bar}$  avec  $1 \text{ bar} = 10^5 \text{ Pa}$  ;
- les pressions en deux points situés dans un même liquide incompressible sont liées par le principe fondamental de l'hydrostatique :  $P_2 - P_1 = \rho \times g \times (z_1 - z_2)$ , avec  $P_1$  et  $P_2$  pressions (en Pa) aux points d'altitudes  $z_1$  et  $z_2$  (en m) et  $\rho$  la masse volumique du liquide en  $\text{kg} \cdot \text{m}^{-3}$ .

1.1. Indiquer la valeur de la pression  $P_A$  au point A en pascal (Pa).

1.2. Montrer que la valeur de la pression au point B est  $P_B = 2,06 \times 10^5 \text{ Pa}$ .

1.3. Indiquer la gamme de coffrage à utiliser pour construire ce pilier en béton.





(Les numéros figurent sur la convocation.)

## 2. Étude de la qualité du béton

Une fois la structure en béton réalisée, il est possible de contrôler sa qualité (résistance, défauts, position des armatures, etc.) grâce à des techniques utilisant des ondes de différentes natures.

### Étude par gammagraphie

La gammagraphie est une méthode d'inspection des constructions en béton qui est utilisée pour localiser les armatures en fer contenues dans le béton. Le principe de fonctionnement de cette technique est fondé sur l'émission de rayonnement gamma par une source (ici le Cobalt 60) qui traverse le matériau ausculté. Le rayonnement gamma est absorbé en fonction de la nature et de la densité du matériau, permettant ainsi d'obtenir une image, en niveaux de gris, des objets présents dans le volume de béton radiographié.

*D'après www.ifsttar.fr*

L'émission de rayonnement gamma par le Cobalt 60 se fait en plusieurs étapes :

- 1<sup>ère</sup> étape : en subissant une désintégration radioactive le Cobalt 60 se transforme en du Nickel 60 à l'état d'énergie  $E_3$  ;
- 2<sup>ème</sup> étape : la désexcitation de l'atome de Nickel de l'état d'énergie  $E_3$  à l'état d'énergie  $E_1$  entraîne l'émission d'un rayonnement ;
- 3<sup>ème</sup> étape : l'atome de Nickel se désexcite une seconde fois passant du niveau d'énergie  $E_1$  au niveau fondamental.

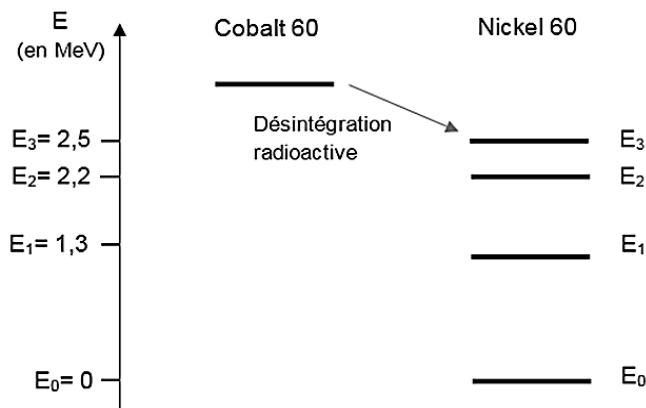
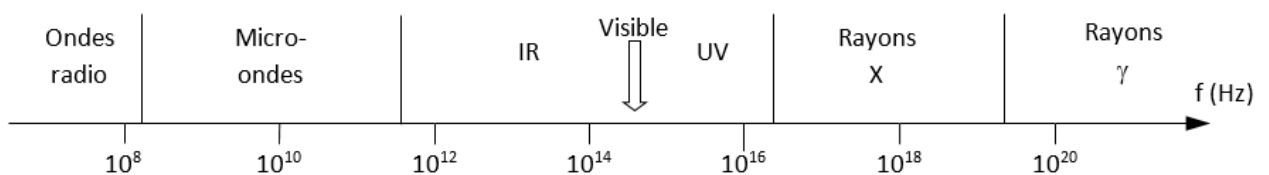


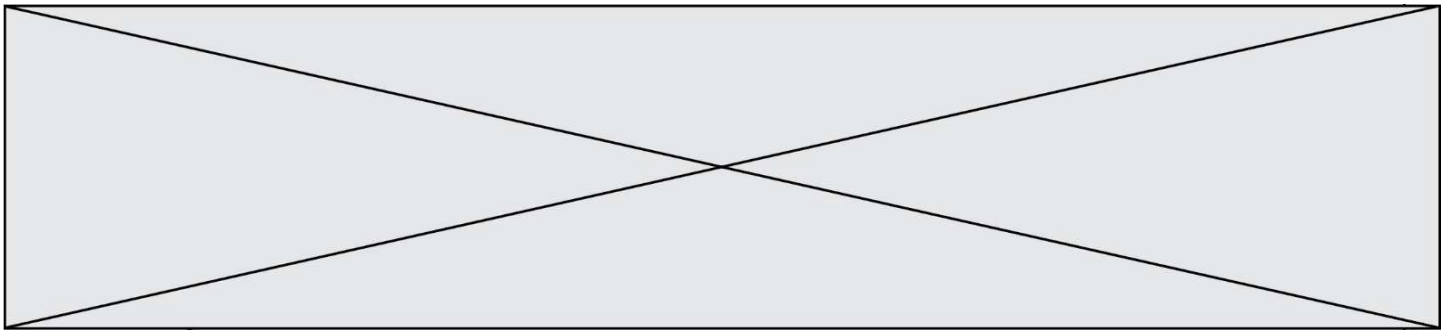
Figure 3. Diagramme d'énergie du Nickel 60. [www.laradioactivite.com](http://www.laradioactivite.com)

### Données :

- domaine des ondes électromagnétiques :



- constante de Planck :  $h = 6,63 \times 10^{-34} \text{ J}\cdot\text{s}$  ;



➤  $1 \text{ eV} = 1,602 \times 10^{-19} \text{ J}$ .

**2.1.** Reproduire sur votre copie le diagramme d'énergie du Nickel 60 de la figure 3 et présenter les transitions correspondant à la 2<sup>ème</sup> et la 3<sup>ème</sup> étape évoquées dans le texte.

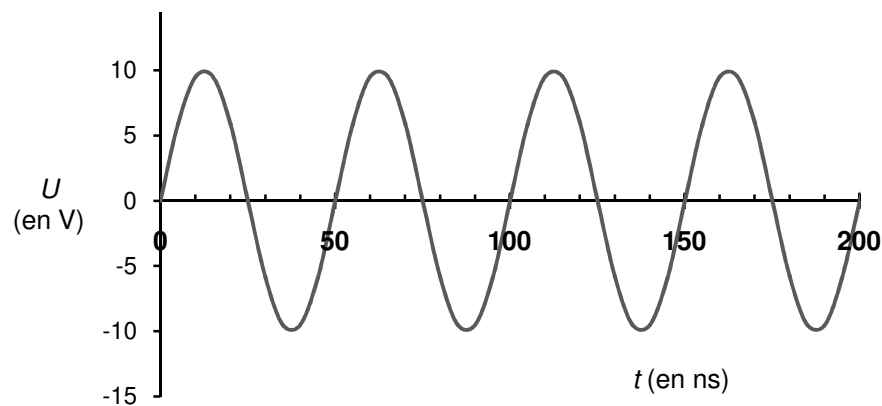
**2.2.** Montrer que l'énergie d'un photon émis lors de la 2<sup>ème</sup> étape vaut  $E = 1,9 \times 10^{-13} \text{ J}$ .

**2.3.** Calculer la fréquence de l'onde émise lors de la 2<sup>ème</sup> étape. Justifier le nom donné à cette méthode d'inspection.

### Étude par onde ultrasonore

L'utilisation d'ultrasons est un outil très adapté pour l'évaluation non destructive des bétons. Il est possible de détecter des microfissures en étudiant la propagation d'onde ultrasonore dans le béton. De plus, la vitesse de propagation des ondes ultrasonores est reliée directement à la résistance du béton et donc à la qualité de celui-ci.

La courbe ci-dessous représente une simulation de la tension d'alimentation d'un émetteur à ultrason utilisé pour le contrôle des bétons :




L'émetteur génère des ondes ultrasonores de même fréquence que celle de la tension qui l'alimente.

**2.4.** Calculer, en MHz, la valeur de la fréquence des ondes utilisées par cet appareil. On explicitera la méthode utilisée.

Pour qu'un défaut dans la structure soit détectable, il faut qu'il ait une taille au moins égale à la moitié de la longueur d'onde ultrasonore.

La vitesse des ondes ultrasonores peut aller jusqu'à  $4\,500 \text{ m} \cdot \text{s}^{-1}$  dans le cas des bétons de grande qualité.

**2.5.** Une fissure est à considérer comme anormale dès qu'elle dépasse 0,3 mm de largeur. Est-il possible de détecter, dans un béton de grande qualité, une fissure de 0,3 mm à l'aide de cet émetteur à ultrason ?



Modèle CCYC : ©DNE

Nom de famille (naissance) :

(Suivi s'il y a lieu, du nom d'usage)

Prénom(s) :

N° candidat :

N° d'inscription :



Né(e) le :

(Les numéros figurent sur la convocation.)

1.1

Dans le cas d'un béton soumis au feu, l'élévation de température provoque une modification physico-chimique du matériau. L'auscultation aux ultrasons, fondée sur des mesures de temps de parcours d'onde ultrasonore est une méthode particulièrement bien adaptée pour remonter à la résistance du béton et ainsi déterminer si une zone a été trop endommagée par le feu.

L'auscultation aux ultrasons consiste à envoyer des ultrasons à l'aide d'un émetteur (E). On place ensuite tous les 20 cm des récepteurs (R1 à R4) et on mesure la durée de trajet du signal.

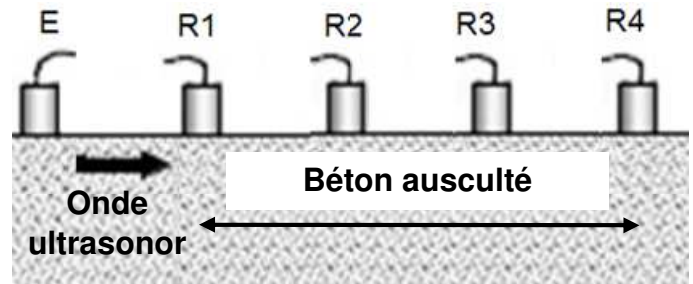
*D'après le laboratoire central des Ponts et Chaussées.*

Données :

- Principe de l'auscultation aux ultrasons

E : Émetteur à Ultrason

R : Récepteurs



*D'après : <http://thesesups.ups-tlse.fr>*

- Résultats pour le bloc de béton soumis au feu :

Récepteur	Distance entre émetteur et récepteur (en cm)	Temps de réception du signal (en $\mu\text{s}$ )
R1	20	62
R2	40	121
R3	60	195
R4	80	278

- Relation entre vitesse des ultrasons et qualité du béton

Vitesse des ultrasons $v$ en $\text{m.s}^{-1}$	Appréciation de la qualité
> 4500	Excellent
3500 à 4500	Bon
3000 à 3500	Assez bon
2000 à 3000	Médiocre
<2000	Très mauvais

*D'après <http://www.geniecivilfrance.com>*

On considère qu'une zone de béton de qualité médiocre ou inférieure est éliminée par piquage pour réparation ou reconstruction.

- 2.6. Déterminer si le morceau de béton compris entre les récepteurs  $R_2$  et  $R_3$  ausculté doit subir des réparations.

